

Sulla cattedra ci sono 5 matite nel portapenne e 4 sparse.
 Quante matite ci sono in tutto?

N° matite sparse

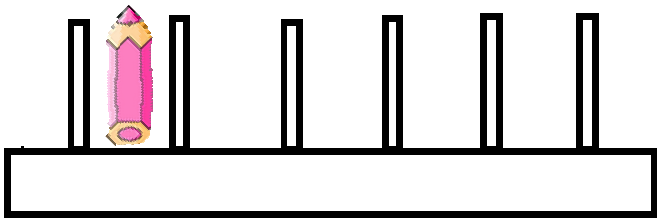

N° matite in tutto

N° matite nel portapenne

matite

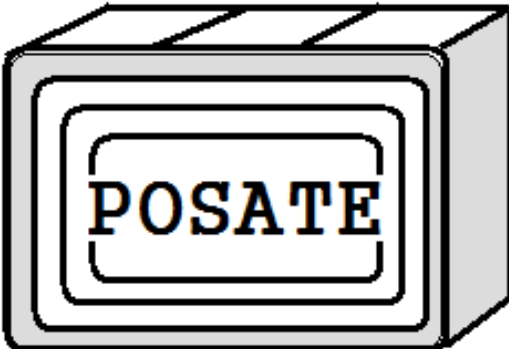
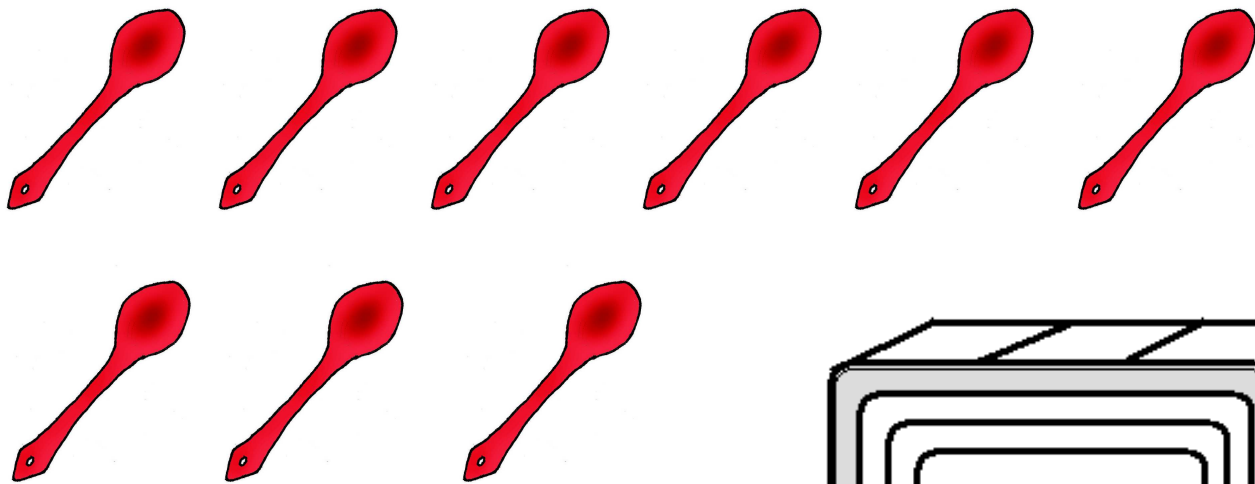
in tutto

ci sono



Per l'insegnante
 Far ritagliare le matite e il portapenne; con queste immagini, riprodurre sul quaderno la situazione problematica descritta. Cerchiare i dati numerici presenti nel problema, far sottolineare la richiesta e costruire i dati utilizzando le frasi contenute nei rettangoli con bordo tratteggiato. Quelli con bordo intero servono per strutturare la risposta, ovviamente le parole che mancano dovranno essere scritte dai bambini. Usare lo stesso modus operandi per il problema seguente.

Sul ripiano della cucina, ci sono 6 cucchiaini ancora da asciugare, mentre nel portaposate ce ne sono 3 già asciutti.
 Quanti cucchiaini ci sono complessivamente?



N° cucchiaini ancora da asciugare

N° cucchiaini già asciutti

N° cucchiaini complessivi

complessivamente

ci sono

cucchiaini